

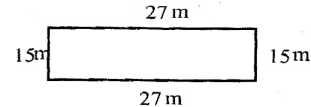



DELHI PUBLIC SCHOOL, VIJAYAWADA
HOLIDAY HOMEWORK

English	Choose anyone outline story on Pg.128 (Grammar book) and develop it.
Telugu	మీకు తెలిసిన కొన్ని పండుగలకు సంబంధించిన చిత్రాలను A4 Sheets పై అతికించండి.
Maths	<div style="text-align: center;">  <p>DELHI PUBLIC SCHOOL VIJAYAWADA Holiday Assignment of Class 4</p> </div> <p>Name: _____ Mathematics Class/Sec: _____</p> <hr/> <p>Answer the following 20x½=10M</p> <ol style="list-style-type: none"> 1. What should be added to 7009 to get 10,000? _____ 2. Ramesh bought 10 chocolates for ₹500. What is the cost of 5 such chocolates? _____ 3. $3x \text{ ______ } = 219 \times 2$ 4. Find the missing number 489E, 589F, 689G, _____ 5. There are 72 wheels. How many auto rickshaws are there? 6. Complete the sequence  _____ 7. Manjeet walks around a rectangular park. The length and breadth of the park is given below. How much distance will he travel if he takes 5 rounds of the park ? <div style="text-align: center; margin-top: 10px;">  </div> 8. Which is greater? A stick of length 200 cm or a piece of ribbon of length 1m? 9. Product of two numbers is 2500. If one number is 50, find the other number? 10. Half a Hectametre= _____ metres 11. Write the successor of $7,00,000+7,000+70+7$ _____ 12. Find the values of a and b _____ <div style="margin-top: 10px;"> $\begin{array}{r} 9) 7 \quad 2 \quad 9(b \quad 1 \\ \underline{-) 7 \quad 2} \quad \downarrow \\ \quad 0 \quad a \\ \quad \underline{-) \quad 9} \\ \quad \quad 0 \end{array}$ <div style="display: inline-block; vertical-align: middle; margin-left: 20px;"> a = _____ b = _____ </div> </div> 13. $12x \text{ ______ } = 144$ 14. How many vertices are there in a circle? _____ 15. 1,4,9,16, _____, _____, _____ 16. Find the product of the place values of 8 in 78,198. _____ 17. Rama travels to her hometown which is 70km away. She travels half way by her car and the remaining half she travels by bus. How many kilometres does she travel by bus? _____ 18. Find the total length. <div style="text-align: center; margin-top: 10px;">  </div> 19. Calculate the change Radhika will get if her bill amount is ₹299 and she pays a ₹ 2000 note to shopkeeper. _____ 20. 14639 paise= ₹ _____
EVS ₁	Collage making on harvest festivals (A4 Sheet)
EVS ₂	<ol style="list-style-type: none"> 1. Why do we get hiccups? 2. What would happen if our backbone is made-up of single – bone? 3. What are hail stones?

प्रश्न-1 : शब्द के शुद्ध रूप / वर्तनी पर (✓) सही का निशान लगाइए -

- | | | | | | | | |
|--------------|--------------------------|-------------|-------------------------------------|------------|-------------------------------------|------------|-------------------------------------|
| 1. स्वस्थ | <input type="checkbox"/> | सवास्थ | <input type="checkbox"/> | स्वास्थ | <input type="checkbox"/> | स्वास्थ्य | <input checked="" type="checkbox"/> |
| 2. आदर्णीय | <input type="checkbox"/> | अदरणीय | <input type="checkbox"/> | आदरनीय | <input type="checkbox"/> | आदरणीय | <input type="checkbox"/> |
| 3. क्यौंकि | <input type="checkbox"/> | क्योक | <input type="checkbox"/> | कियोकि | <input type="checkbox"/> | क्योंकि | <input checked="" type="checkbox"/> |
| 4. विद्यारथी | <input type="checkbox"/> | विद्यार्थथी | <input type="checkbox"/> | विधयार्थी | <input type="checkbox"/> | विद्यार्थी | <input checked="" type="checkbox"/> |
| 5. प्रदूशन | <input type="checkbox"/> | प्रदूषण | <input checked="" type="checkbox"/> | प्रदुशन | <input type="checkbox"/> | परदुशण | <input type="checkbox"/> |
| 6. प्रिथ्वी | <input type="checkbox"/> | पृथवी | <input type="checkbox"/> | पृथ्वी | <input checked="" type="checkbox"/> | प्रियवी | <input type="checkbox"/> |
| 7. मातृभूमि | <input type="checkbox"/> | मातृभूमी | <input type="checkbox"/> | मात्रीभूमि | <input type="checkbox"/> | मात्रभूमि | <input type="checkbox"/> |
| 8. राशट | <input type="checkbox"/> | राषट्र | <input type="checkbox"/> | राश्ट्र | <input type="checkbox"/> | राष्ट्र | <input type="checkbox"/> |

प्रश्न-2: नीचे दिए गए अशुद्ध शब्दों का शुद्ध रूप उनके सामने लिखिए -

- | | |
|-----------------------|---------------------|
| 1. बुदिधमान - | 2. सप्ताहिक - |
| 3. रूपए - | 4. चहीए - |
| 5. क्षुत्रलेख - | 6. उन्नती - |
| 7. उचाँई - | 8. दृष्य - |

प्रश्न-3 : उचित विकल्प पर सही (✓) का निशान लगाइए -

- बच्चे जीकर का करतब देखकर हंस / हँस रहे थे ।
- माँ कड़ाई / कढ़ाई में पूरियाँ तलने लगीं ।
- मेरे माता-पिता मेरा जन्मदिन धूमधाम से मनाते / बनाते हैं ।
- मैं भूखा / भूका हूँ ।

प्रश्न-4 : नीचे दिए गए रिक्त स्थानों में उचित संज्ञा / सर्वनाम / विशेषण / क्रिया शब्द भरिए-

- में जल कम हो रहा है ।
- पुस्तकें पढ़ने का शौक है ।
- मैं गणतंत्र दिवस की परेड देखने ।
- श्री रामनाथ कोविंद जी हमारे हैं ।
- दीपावली के दिन बाजारों में काफी होती है ।